

Всероссийская Сеченовская олимпиада школьников по биологии 2023-2024.

Заключительный этап.

10 класс

Результаты проверки

10	1	3	0	7	9	3	3	6	4,5
1	2	3	4	5	6	7	8	9	10
Сумма баллов		46,5			Подпись				

1.2 10 баллов

Вы являетесь сотрудником лаборатории по изучению лекарственных растений. На анализ поступили споры растения Y. При микроскопии препарата Вы обнаружили наличие 4 тонких нитей у каждой споры. Известно, что споры были собраны с бесхлорофильных спороносных колосков растения, произрастающего на суходольном лугу.

1. Назовите растение Y и отдел растений, которому этот представитель относится.

растение Y	Жвучу (полевая)	1 балл	1
отдел	Жвоирвидное	1 балл	1

2. Определите стадию жизненного цикла и набор хромосом растения, с которого был произведен сбор спор.

стадия жизненного цикла	спорофит	1 балла	1
набор хромосом	2n=4n	1 балл	1

3. Кариотип данного растения составляет 216 хромосом. Определите общее количество теломер в образце из 25 его спор.

3	5400	4 балла	4
---	------	---------	---

4. Предположим, в местности произрастания растения ближайшие несколько лет теплый период будет жарким с минимальным количеством осадков. Какой тип размножения будет доминировать у растения Y в этот период? Ответ поясните.

4	Весполое или вегетативное, так как для размножения павелл путем бесполого вода, которая дошла бы бесполого мутации гомогот до жемелю, а вода в этот период, как жарко в уалеви, будет мало из-за малое количество осадков.	2 балла	2
---	--	---------	---

105226

**2.2 10 баллов**

По данным исследователей одним из способов определить, какие гены экспрессируются в ткани является анализ синтезируемых мРНК. Для этого набор РНК преобразуют обратной транскрипцией в комплементарные ДНК (кДНК) и их секвенируют.

Представьте, что Вы молекулярный биолог. Восстановите последовательность участка цепи кДНК, использованную в реакции секвенирования методом терминации цепи.

Лунки на геле располагаются сверху. Четыре дорожки соответствуют дидезоксинуклеотидам:

1 – ддАТФ, 2 – ддГТФ, 3 – ддТТФ, 4 – ддЦТФ.

**1 2 3 4**



1. Определите первый и последний триплеты полученной кДНК с указанием направления.

Первый триплет	3' TGT - 5'	1 балл	0
Последний триплет	3' - TTT - 5'	1 балл	0

2. Определите какие аминокислоты находятся на N- и C- концах фрагмента полипептида, кодируемого полученной кДНК. Открытую рамку считывания задавайте с первого нуклеотида, приняв условно, что старт-кодон не нужен.

N-конец	Метионин (Met)	2 балла	0
C-конец	Триптофан (Trp)	2 балла	0

3. Определите количество пиримидиновых нуклеотидов в изучаемом фрагменте мРНК?

2	22	2 балла	0
---	----	---------	---

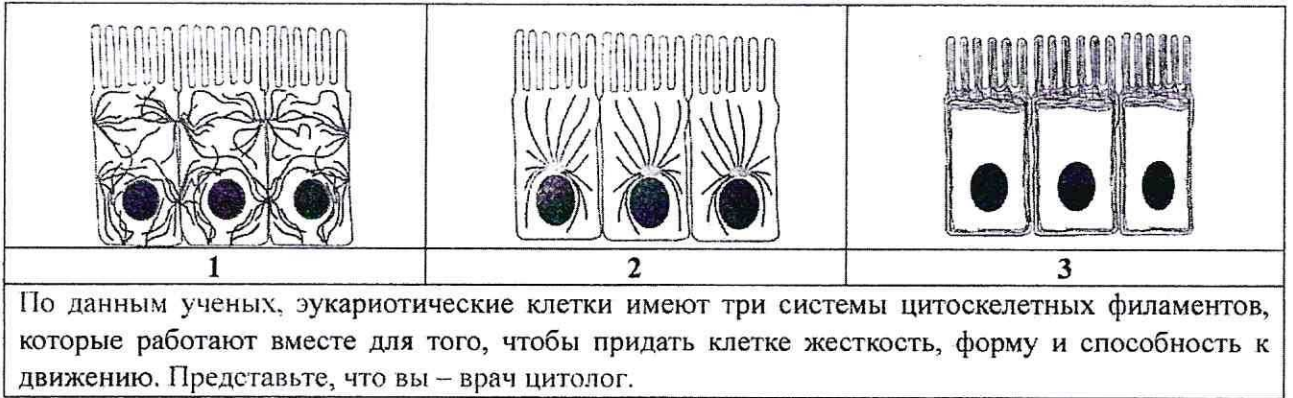
4. Назовите нуклеотид, который встречается в секвенируемой цепи чаще других.

3	Тимин (в мРНК), аденин (в кДНК)	1 балл	0
---	---------------------------------	--------	---

5. Назовите химическую связь, которая не может образоваться при добавлении ддТТФ.

4	кватертичная	1 балл	0
---	--------------	--------	---

3.2 10 баллов



По данным ученых, эукариотические клетки имеют три системы цитоскелетных филаментов, которые работают вместе для того, чтобы придать клетке жесткость, форму и способность к движению. Представьте, что вы – врач цитолог.

1. Назовите элементы, которые удерживают вместе слои эпителиальных клеток, образуя в цитоплазме толстые пучки.

1	параллельные филаменты	2 балла
---	------------------------	---------

2. На какой схеме изображены элементы, которые удерживают вместе слои эпителиальных клеток, образуя в цитоплазме толстые пучки.

2	2	2 балла
---	---	---------

3. Выберите организмы и клетки, из перечисленных ниже, в цитоплазме которых относительно высокая концентрация этих элементов:

кишечная палочка, клетка кожицы растения, грибная клетка, амеба, сперматозоид, нервная клетка.

3	кишечная палочка, амеба, сперматозоид	2 балла
---	---------------------------------------	---------

4. Укажите, какие функции эти элементы выполняют в ядре.

4	1. образует ядерную лангетту 2. поддерживает форму и целостность ядра, его протекцию 3. участвует в ядерной транспортной	2 балла 1
---	--	--------------

5. Как добавление препарата, разрушающего эти цитоскелетные элементы, повлияет на движение фибробластов?

5	нарушится амёба будет двигаться по направлению только по направлению	2 балла 0
---	--	--------------

4.2 10 баллов

В медико-генетическую консультацию обратилась здоровая женщина для определения вероятности развития муковисцидоза у своих детей. Её сестра больна. Их родители здоровы. Муж здоров, и в его семье не было больных муковисцидозом. Заболевание наследуется по аутосомно-рецессивному типу. Встречается в популяции с частотой 1 на 6400. Примите условно, что популяция подчиняется закону Харди-Вайнберга.

1. Определите вероятность, с которой муж несёт мутантный аллель. Ответы укажите в процентах, округлив до десятых.

1	0%	3 балла
---	----	---------

2. Определите вероятность, с которой жена несёт мутантный аллель. Ответы укажите в процентах, округлив до десятых.

2	50%	3 балла
---	-----	---------

105226

3. Определите вероятность рождения больного муковисцидозом ребенка в этой семье. Ответы укажите в процентах, округлив до десятых.

3	0%	2 балла
---	----	---------

4. Ген муковисцидоза, локализован в середине длинного плеча 7-й хромосомы. Что общего между 7 хромосомой и X-хромосомой с позиции Денверской классификации?

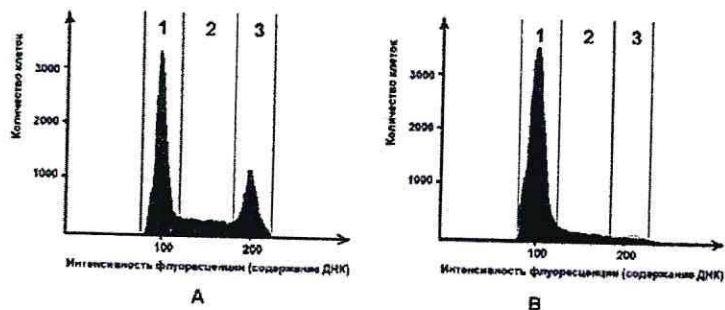
4		1 балл
---	--	--------

5. Ген муковисцидоза, локализован в середине длинного плеча 7-й хромосомы. Что общего между 7 хромосомой и X-хромосомой с позиции цитогенетики хромосом (размера и положения центромеры)?

5		1 балл
---	--	--------

**5.2 10 баллов**

Размножение опухолевых клеток можно остановить при помощи ингибиторов, нарушающих процесс клеточного цикла. Поиск эффективных препаратов для лечения онкологических заболеваний (ингибиторов клеточного цикла) проводится на модельных клеточных линиях с помощью метода проточной цитофлуориметрии. Контрольный образец (гистограмма А) культуры опухолевых клеток человека выращивали в питательной среде без ингибитора. Исследуемый образец (гистограмма В) – в присутствии ингибитора В. Через 72 часа роста и размножения культуры клеток были обработаны флуоресцентным красителем, который специфично связывался с ДНК. Число клеток с определенным уровнем флуоресценции, определяли с помощью проточного цитометра. Результаты представлены на графиках.



1. Определите, в какой фазе клеточного цикла находятся клетки контрольного образца, указанные на графике в зоне 3.

1	митоза	2 балла
---	--------	---------

2. Какой набор хромосом характерен для клеток контрольного образца, находящихся в зоне 3?

2	2n4c	2 балла
---	------	---------

3. Определите количество теломер в 300 клетках человека (женского пола) контрольного образца, находящихся в зоне 1?

3	55200	2 балла
---	-------	---------

4. Укажите, нарушение течения какого периода интерфазы происходит, вероятнее всего, в культуре клеток исследуемого образца, находящейся в зоне 2, при добавлении ингибитора В?

4	митотический период	2 балла
---	---------------------	---------

5. Укажите, какой процесс нарушается, вероятнее всего, в культуре клеток исследуемого образца, при добавлении ингибитора В?

5	ретикуляция	2 балла
---	-------------	---------

**6.2 10 баллов**

В доклиническом исследовании лекарственных препаратов используются половозрелые модельные животные: 20 кроликов, 60 мышей, 20 тритонов и 60 лягушек. Проанализируйте предложенный список животных и ответьте на вопросы.

1. Определите общее количество животных, которое подходит для исследования воздействия препарата X на полушария мозжечка.

1	100 80	2 балла
---	--------	---------

2. Определите общее количество слуховых косточек, которое подходит для исследования воздействия препарата G на костную ткань. Назовите косточку, которая в процессе эволюции появилась раньше других.

2	стремляшко 380	2 балла 1
---	-------------------	--------------

3. Определите количество слепых кишок, которое можно получить от модельных животных для исследования воздействия препарата S на процессы регенерации в этой области пищеварительного канала.

3	80	2 балла
---	----	---------

4. Какое общее количество клыков вы сможете получить от этих модельных животных для исследования препарата F.

4	0	2 балла
---	---	---------

5. Какое общее количество модельных животных подойдет для исследования препарата J на процесс образования первичной и вторичной мочи. Назовите структуру нефрона, в которой происходит образование первичной мочи.

5	Капсула Вальдема-Шумлянского	2 балла
---	------------------------------	---------

**7.2 10 баллов**

Вы - сотрудник лаборатории анатомии и морфологии лекарственных растений. Вам необходимо систематизировать базу имеющихся образцов. В вашем распоряжении подборка следующих препаратов: поперечный срез стебля ландыша, поперечный срез стебля липы, поперечный срез стебля белены черной, поперечный срез корня кукурузы, споры хвоща полевого, поперечный срез стебля лапчатки, поперечный срез корня земляники в зоне проведения.

1. Определите количество образцов, в которых можно обнаружить первичные образовательные ткани.

1	4.	2 балла
---	----	---------

2. Перечислите образцы, в которых можно обнаружить камбий.

2	поперечный срез стебля липы, поперечный срез стебля белены черной, поперечный срез стебля лапчатки, поперечный срез корня кукурузы	4 балла 2
---	--	--------------

106226

3. В каком количестве образцов вы обнаружите проводящие элементы, расположенные строго в одно кольцо?

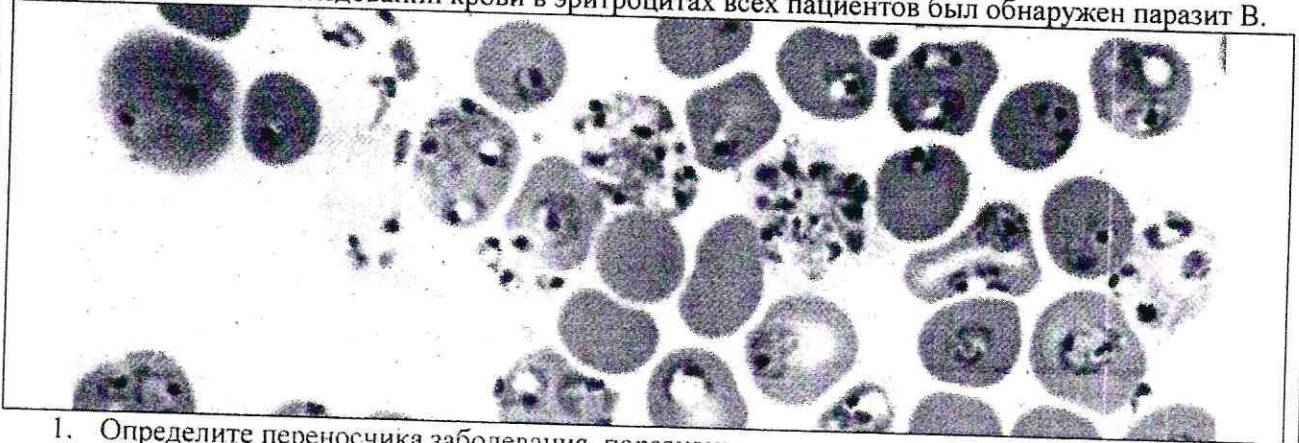
3	2	2 балла
---	---	---------

4. Перечислите образцы растений, образующих апокарпные плоды.

4	ландиш, земляника, кукуруза, баобаба.	2 балла # 1
---	---------------------------------------	----------------

**8.2 10 баллов**

Группа туристов из 20 человек, вернувшись из поездки по Африке, почувствовала себя плохо (периодические скачки температуры с интервалом 72 часа, озноб, слабость). При микроскопическом исследовании крови в эритроцитах всех пациентов был обнаружен паразит В.



1. Определите переносчика заболевания, поразившего туристов и назовите род паразита В.

1	Малярийный комар	1 балл
	Споровики	1 балл

2. Перечислите названия стадий развития паразита, которые могут быть обнаружены в эритроците и по морфологическим особенностям, которых можно определить вид паразита В.

2	Спорозои, мерозоиты, гаметоциты.	3 балла
---	----------------------------------	---------

3. Перечислите меры личной профилактики медицинского сотрудника при работе с этой группой туристов.

3	избегать попадания крови туристов на одежду, кожу (открывающиеся раны), носить москитную сетку, использовать репелленты, прививку от малярии, избегать укусов.	1 балл
---	--	--------

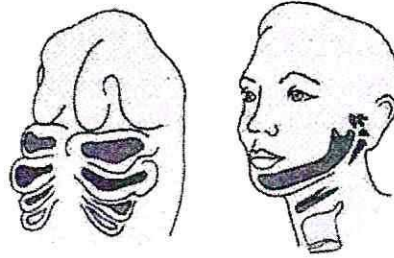
4. Решите виртуальную задачу. Определите количество поражённых эритроцитов у одного туриста через 10 дней после попадания в плазму крови 10 мерозоитов паразита В, если известно, что длительность процесса деления составляет 72 часа, в процессе деления образуется около 16 ядер, а 10% мерозоитов каждого поколения превращаются в гаметоциты. Ответ запишите целым числом.

4	50	4 балла
---	----	---------

9.2

10 баллов

Врач отоларинголог лечит заболевания уха, горла и носа. Ротовая полость, уши и нос связаны между собой и образуют единую систему. При заболевании одного из этих органов велик риск развития воспаления остальных.



1. Сколько всего непарных отверстий в глотке. Назовите эти отверстия.

1	8	2 балла
		✓

2. Какие структуры гортани и трахеи образуются из элементов жаберных дуг у человека?

2	хрящи гортани и трахеи (перстиселюный), кольца трахеи	4 балла
---	---	---------

3. Какие костные структуры – поле профессиональной деятельности отоларинголога образуются из элементов второй жаберной дуги у человека? У какого класса животных эта костная структура в процессе эволюции появилась впервые?

3	Стремлячко	2 балла
	Класс Рыбы	2 балла
		✓

10/226

10.2 10 баллов

В больницу обратился пациент 46 лет с повторяющимися приступами головной боли, сопровождающимися рвотой и головокружением. При обследовании головного мозга обнаружены многочисленные округлые образования диаметром 3-15 мм, в том числе в области, прилегающей к задней доле гипофиза. Со слов пациента некоторое время назад у него появились жалобы со стороны желудочно-кишечного тракта: боли в животе, тошнота, рвота, отсутствие аппетита, потеря массы тела. При дефекации выходили фрагменты паразитов, показанные на рисунке. При дополнительном обследовании у пациента выявлены признаки обезвоживания организма.



1. Определите паразита, тип к которому относится паразит, назовите фрагмент паразита, представленный на иллюстрации, и заболевание, поразившее мозг пациента.

Название паразита		1 балл
тип	Плоские черви	1 балл
фрагмент паразита	сегмент тела, проглотиску	1 балл 0,5
заболевание		1 балл

2. Каким хозяином является человек для стадии развития, обнаруженной в мозге и кишечнике пациента?

В мозге	проглотиску	1 балл
В кишечнике	ооцинтами	1 балл

3. В какой ткани паразитирует возбудитель заболевания (фотография 1)? Дайте точное название стадии развития, паразитирующей в мозге человека.

Паразитирует в	нервная	1 балл
Точное название стадии развития	яйцо	1 балл

4. Почему у пациента появились признаки обезвоживания организма?

4	Обитали в кишечнике паразита и его активные размножились там вызывает диарею, это влечет за собой активную потерю воды организмом. (диарея вызывается продуктами жизнедеятельности паразита, попадающие в стадии человека)	2 балла 0
---	--	--------------